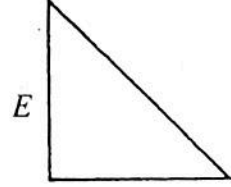
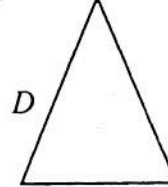
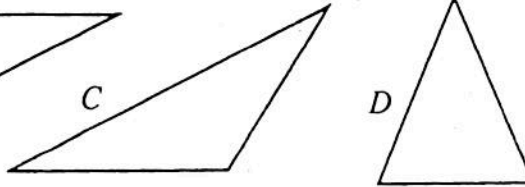
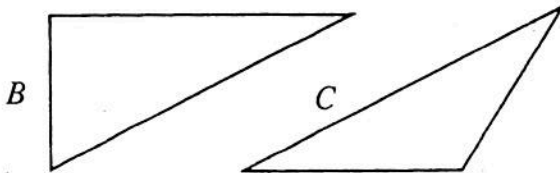
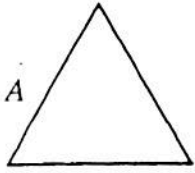


Le triangle



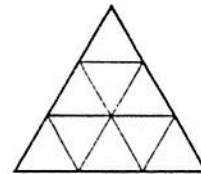
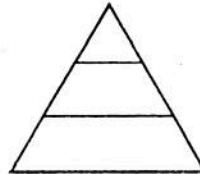
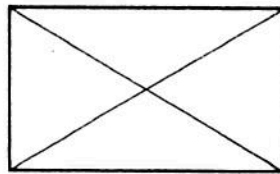
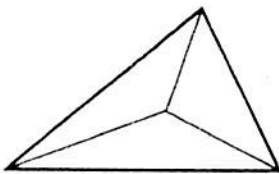
1. Utilise la règle et l'équerre pour comparer les triangles suivants.



Complète le tableau.

	triangle n'ayant aucun côté de même longueur	triangle ayant 2 côtés de même longueur	triangle ayant 3 côtés de même longueur
triangle ayant un angle droit			
triangle n'ayant pas d'angle droit			

2. Combien de triangles vois-tu sur chaque figure ?

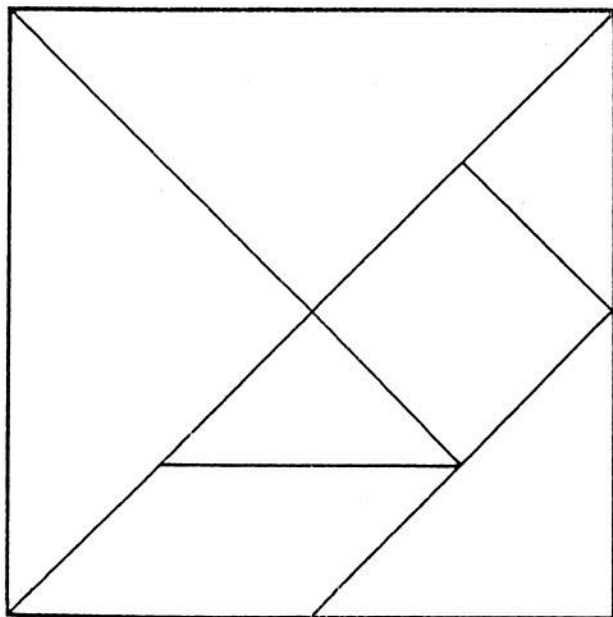


.....

.....

.....

.....



3. Observe la figure ci-contre. Combien comptes-tu de triangles ?

.....

Découpe les différents morceaux et assemblé-les de manière à former successivement :

- un carré,
- un triangle,
- un rectangle.